

# 七年级 地理

(总分:100分 作答时间:90分钟)

## 一、单项选择题 (每小题2分, 共44分)

1. 地球是人类赖以生存的家園, 地球的平均半径是( )  
A. 6371亿千米    B. 6371平方千米    C. 6371千米    D. 6371立方千米
2. 麦哲伦环球航行, 证实了( )  
A. 天圆地方    B. 地球是一个球体    C. 日月星辰东升西落    D. 四季的变化

读图1经纬网的局部图完成3、4题。

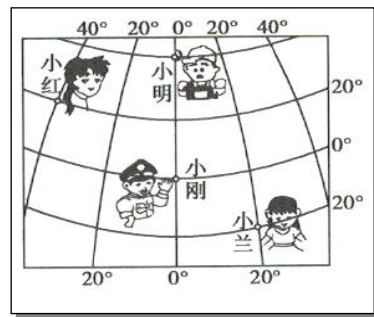


图1

3. 图中位于南半球的是  
A. 小红    B. 小明    C. 小刚    D. 小兰
4. 小刚所在的经度是( )  
A. 0°    B. 20°    C. 40°    D. 10°

读“地球公转”图2, 完成5、6、7题。

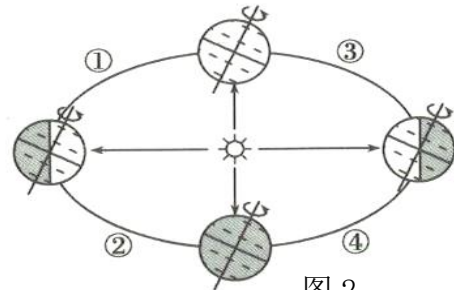


图2

5. 地球公转的中心是( )  
A. 太阳    B. 地球    C. 月球    D. 宇宙
6. 安顺市某学校开运动会在11月28日-30日, 这个时间是安  
A. 春    B. 夏    C. 秋    D. 冬
7. 这个时间地球运行到上图公转轨道上的( )段。  
A. ①    B. ②    C. ③    D. ④
8. 影响喜马拉雅山南坡降水远远高于北坡的原因是( )  
A. 纬度因素    B. 地形因素    C. 人类活动    D. 海陆因素

读“等高线地形”图3, 完成9、10题

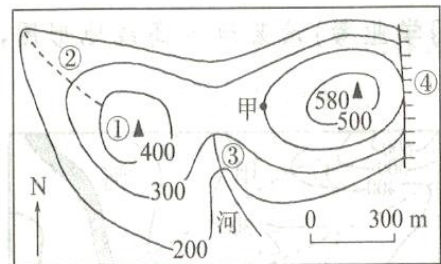


图3

9. 图中甲处海拔为( )  
A. 200米    B. 300米    C. 400米    D. 500米
10. 图中序号表示山谷的是( )  
A. ①    B. ②    C. ③    D. ④
11. 下列哪句话指的是天气( )  
A. 极地地区全年严寒    B. 明天大风降温  
C. 昆明四季如春    D. 赤道附近全年高温多雨
12. 有关地球自转, 说法错误的是( )  
A. 自转方向自西向东    B. 自转一周是一年  
C. 产生昼夜交替    D. 不同的经度产生时差

13. 在一次国际中学生夏令营活动中, 某学生这样介绍自己的家乡: “我的家乡一年到头都很热, 极少下雨。” 据此该学生的家乡可能是( )

- A. 非洲的撒哈拉沙漠                      B. 中国的南方  
C. 欧洲西部                                      D. 南美洲的亚马孙热带雨林
14. 下列不属于有利于聚落形成与发展的条件的是( )  
A. 水源充足              B. 土壤肥沃              C. 自然资源短缺              D. 交通便利
15. 下列有关人种的搭配, 错误的一项是( )  
A. 非洲南部— 白种人                      B. 亚洲东部—黄种人  
C. 大洋洲—黑种人                              D. 欧洲—棕色人种
16. 世界上使用人数最多的语言是( )  
A. 英语                      B. 汉语                      C. 俄语                      D. 阿拉伯语
17. 下列建筑中, 属于伊斯兰教的是( )  
A. 教堂                      B. 道观                      C. 佛塔                      D. 清真寺
18. 造成“全球气候变暖”是因为( )增多  
A. 人口增多              B. 尘埃增多              C. 二氧化碳增多              D. 台风增多
19. 以下聚落中既属于中国又被列入《世界遗产名录》的是( )  
A. 云南省丽江古城              B. 法国巴黎塞纳河沿岸              C. 意大利威尼斯城              D. 西班牙托莱多城

20. 图4是表示地球演变过程中海陆分布的变化情况, 根据大陆漂移学说, 由早到晚的排列顺序( )



图 4

- A. ①②③                      B. ②③①  
C. ③②①                      D. ①③②
21. 看图5, 此气候夏季具有的气候特征是( )  
A. 炎热干燥                      B. 温和少雨  
C. 高温多雨                      D. 低温干燥
22. 目前, 人类面临的全球性问题主要( )  
A. 人口、资源、资金、宗教              B. 人口、资源、环境、发展  
C. 人口、粮食、资金、环境              D. 人口、粮食、灾害、发展

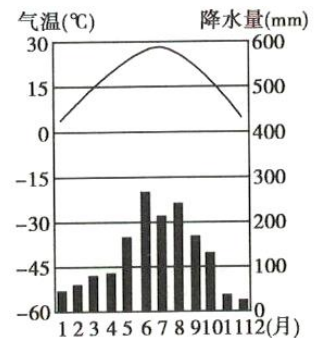
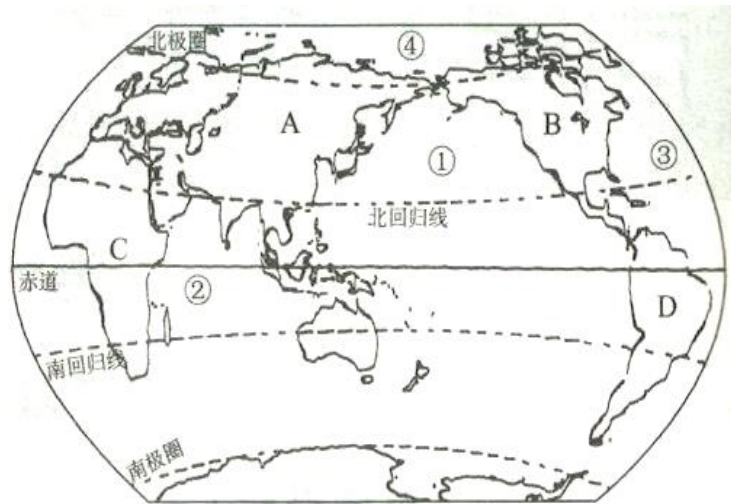


图 5

## 二、综合题（每小空2分，共56分）

23. 读“大洲和大洋分布图”完成下列各题（26分）。



(1) 写出图中字母所表示的大洲名称，数字所表示的大洋名称：

A \_\_\_\_\_ 洲，③ \_\_\_\_\_ 洋。

(2) 概括地说，地球上 \_\_\_\_\_ 分是海洋， \_\_\_\_\_ 分是陆地。世界上最大的岛屿是 \_\_\_\_\_。

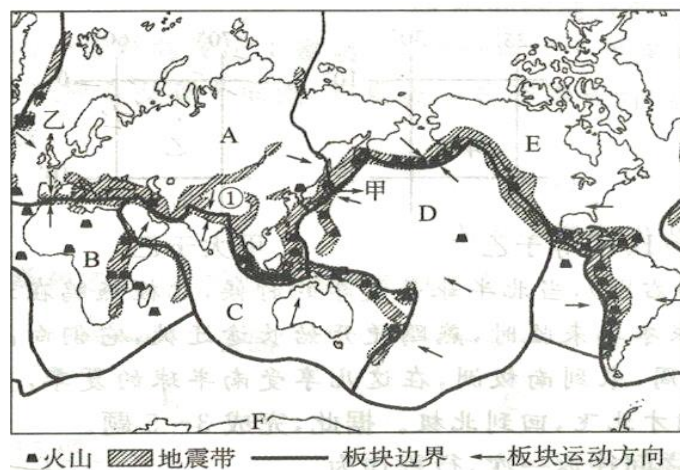
(3) 不属于亚洲与欧洲的分界线是 \_\_\_\_\_。(填代号)

A. 巴拿马运河      B. 乌拉尔山脉      C. 土耳其海峡      D. 里海

(4) 世界气温的分布规律是从低纬向高纬气温逐渐 \_\_\_\_\_；赤道附近与两极地区对比， \_\_\_\_\_ 降水多。任意列举一项气候对人类影响的例子 \_\_\_\_\_。

(5) 根据 \_\_\_\_\_ 差异，大体可以把世界的国家分为发展中国家和发达国家。发展中国家主要分布在 \_\_\_\_\_ 洲， \_\_\_\_\_ 洲和拉丁美洲。在国际上，一般把发展中国家和发达国家之间的政治、经济商谈称为 \_\_\_\_\_。

24. 读六大板块与主要火山、地震带分布图，回答下列问题。(18分)




(1) 写出图中字母所代表的板块的名称：

A \_\_\_\_\_， D \_\_\_\_\_

- (2) 六大板块中几乎全部位于海洋的板块是\_\_\_\_, 中国位于\_\_\_\_。(匀填代号)
- (3) 世界两大火山. 地震带的名称是\_\_\_\_\_和地中海-喜马拉雅地带。
- (4) 图中甲点在乙点\_\_\_\_\_方向。亚洲东部的日本是世界上著名的“地震国”，每年的有感地震达 1500 多次，甲，乙两地中代表日本的是\_\_\_\_, 运用所学知识解释日本多火山. 地震的原因是\_\_\_\_\_。
- (5) ①处是世界上最高大雄伟的喜马拉雅山脉, 它的形成是由于亚欧板块和\_\_\_\_\_板块发生碰撞(填板块的名称)。

25. 读漫画，完成下列各题(12 分)



- (1) 这两幅漫画反映了当前世界上存在着严重的\_\_\_\_\_问题。存在此类问题的国家，请你列举一个国家：\_\_\_\_\_。
- (2) 漫画反映的问题可能产生的后果是\_\_\_\_\_, \_\_\_\_\_, \_\_\_\_\_。(任意写 3 条)
- (3) 要解决这种可怕现象最根本的做法是\_\_\_\_\_。